

• Repérage de cases, de noeuds d'un quadrillage et se déplacer aisément dessus.

Nom : .....

Date : .....

Evaluation

Se repérer sur un quadrillage

/20

A	RF	RR	NA

/5

1 Ecris le code des objets suivants :

	a	b	c	d	e	f
1		+				
2						●
3						
4	★					
5			♥			
6					⊘	

♥	( ..... , ..... )
★	( ..... , ..... )
⊘	( ..... , ..... )
●	( ..... , ..... )
+	( ..... , ..... )

/5

2 Lis le code des objets et dessine-les dans la bonne case.

	a	b	c	d	e	f
1						
2						
3						
4						
5						
6						

♥	( a , 5 )
★	( b , 6 )
⊘	( f , 4 )
●	( d , 1 )
+	( c , 3 )

- Repérage de cases, de noeuds d'un quadrillage et se déplacer aisément dessus.

Nom : .....

Date : .....

Evaluation

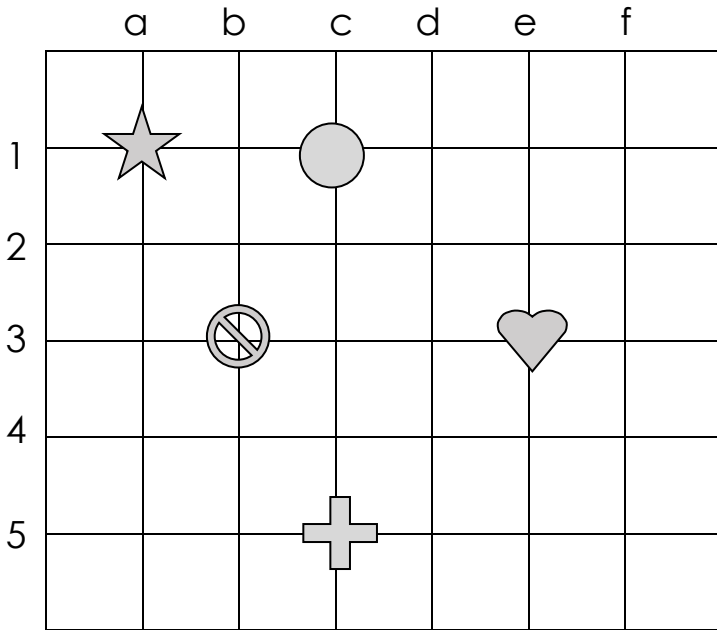
Se repérer sur un quadrillage


/20


A	RF	RR	NA


/5


3 Ecris le code des objets suivants :




 ( ..... , ..... )

 ( ..... , ..... )

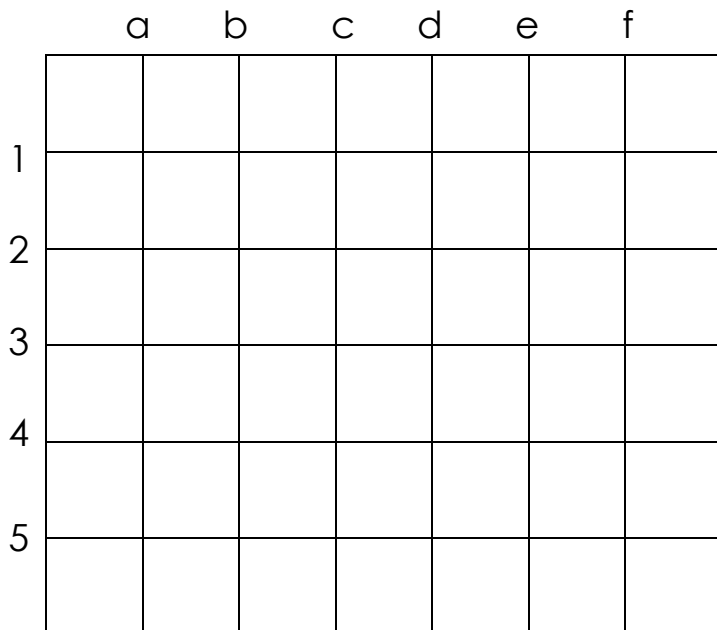
 ( ..... , ..... )


 ( ..... , ..... )


 ( ..... , ..... )


/5


4 Lis le code des objets et dessine-les sur le bon noeud.




 ( d , 2 )

 ( b , 1 )

 ( c , 3 )

 ( e , 5 )

 ( f , 1 )

Nom : .....

Date : .....

- Repérage de cases, de noeuds d'un quadrillage et se déplacer aisément dessus.

Corrigé

## Se repérer sur un quadrillage

/20

A	RF	RR	NA

/5

1 Ecris le code des objets suivants :

	a	b	c	d	e	f
1		+				
2						●
3						
4	★					
5			♥			
6					⊘	

- ♥ (c, 5)
- ★ (a, 4)
- ⊘ (e, 6)
- (f, 2)
- +

/5

2 Lis le code des objets et dessine-les dans la bonne case.

	a	b	c	d	e	f
1				●		
2						
3			+			
4						⊘
5	♥					
6		★				

- ♥ (a, 5)
- ★ (b, 6)
- ⊘ (f, 4)
- (d, 1)
- +

Nom : .....

Date : .....

- Repérage de cases, de noeuds d'un quadrillage et se déplacer aisément dessus.

Corrigé

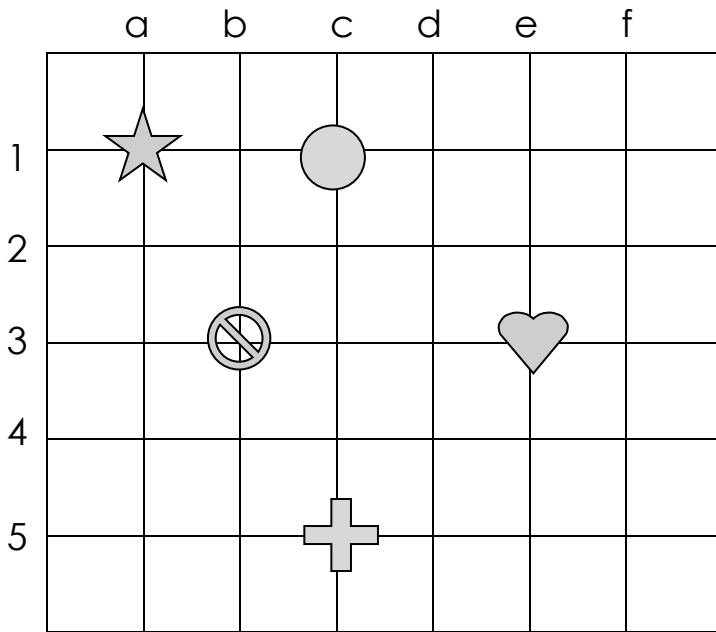
## Se repérer sur un quadrillage






/20

A	RF	RR	NA

/5

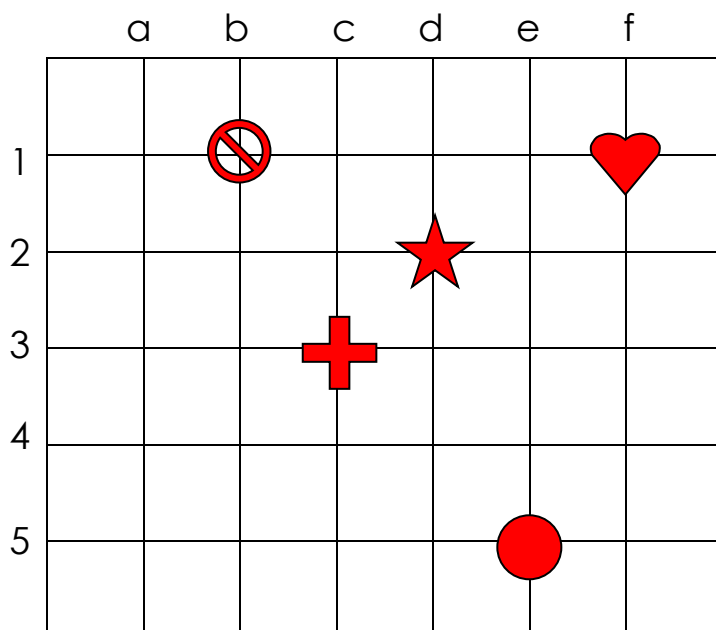
3 Ecris le code des objets suivants :








-  (a, 1)
-  (b, 3)
-  (c, 5)
-  (c, 1)
-  (e, 3)

/5

4 Lis le code des objets et dessine-les sur le bon noeud.



-  (d, 2)
-  (b, 1)
-  (c, 3)
-  (e, 5)
-  (f, 1)